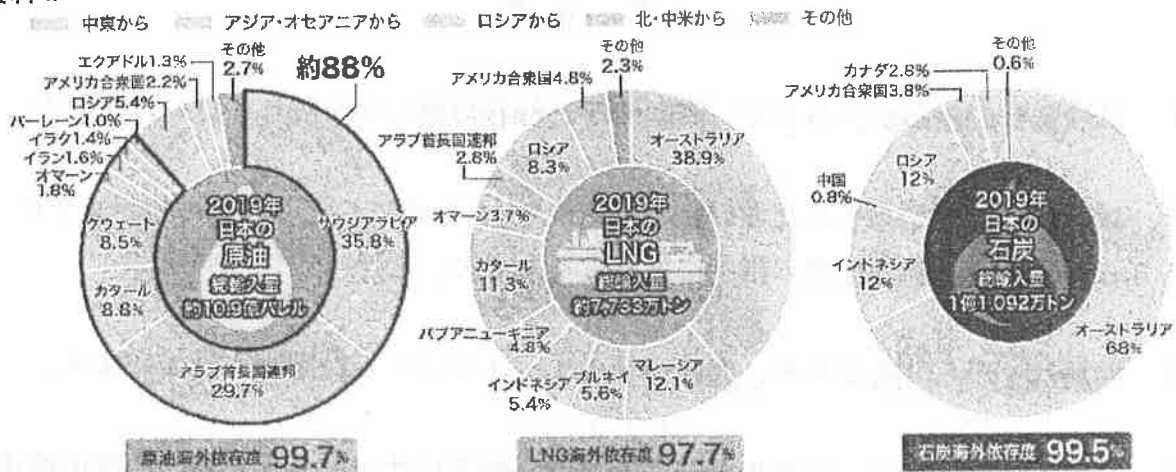


1 次の資料をみて、問いに答えなさい。

資料 i



資料 ii



2019（令和元）年12月、中国湖北省武漢市で確認されて以降、瞬く間に世界中に感染が拡大した ① covid-19 [新型コロナウイルス感染症]。世界有数の工業生産国である日本は、生産のための資源の多くを **あ** に依存しており大きな影響を受けた。例えば ② 鉱産資源では、石炭の依存度は **い** %と高い。石炭は主に **う** から、原油は **え** からの輸入が最も多い。現在、世界各地で資源開発が進んでいるが、資源には限りがあることを理解した上で、「**お**な社会」を目指すことが重要である。

- (1) 文中の **あ** ～ **お** に入る適語を答えなさい。
- (2) 文中の「**お**な社会」の確立をめざし、2015（平成27）年9月の国連サミットにおいて採択された17項目の目標とは何か、アルファベットで答えなさい。
- (3) 文中下線部①について、「covid-19 [新型コロナウイルス感染症]」と名付けた、国連の専門機関名を何か、日本語で答えなさい。
- (4) 文中下線部②について、「鉱産資源」と呼ばれるものを3つ答えなさい。
- (5) 鉱産資源は、埋蔵量が限られるため枯渇資源とも呼ばれる。それに対し、近年、再生可能エネルギーが注目されている。その具体例を2つ答えなさい。

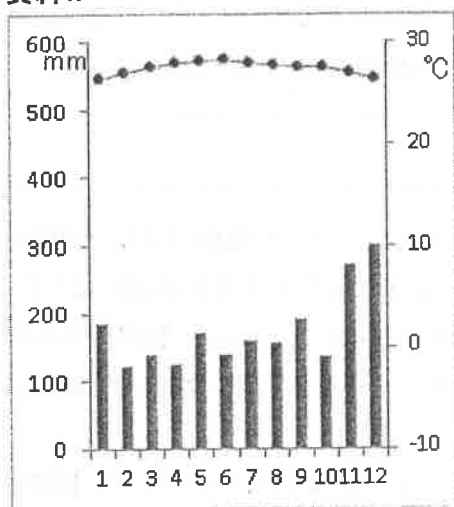
(6) 近年資料iiiを目にすることが多くなっている。これは何を意味するものか、説明しなさい。(字数制限なし)

資料iii

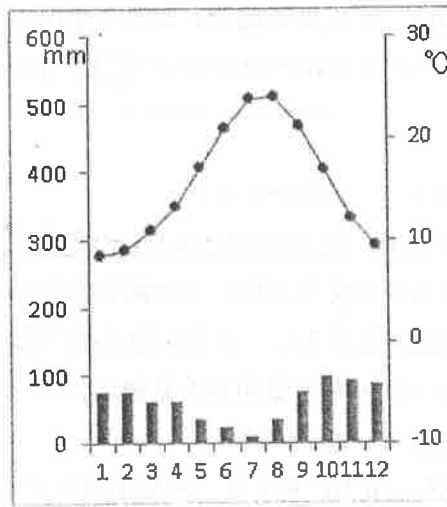


(7) CO₂ やメタンなどの温室効果ガス排出量を、森林吸収や排出量取引などで差し引くことで、全体としてゼロにすることを何というか答えなさい。

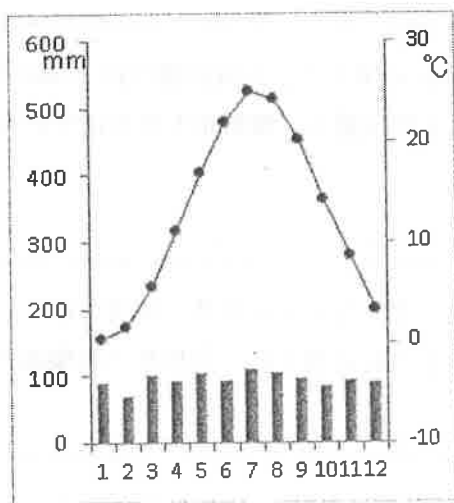
資料iv



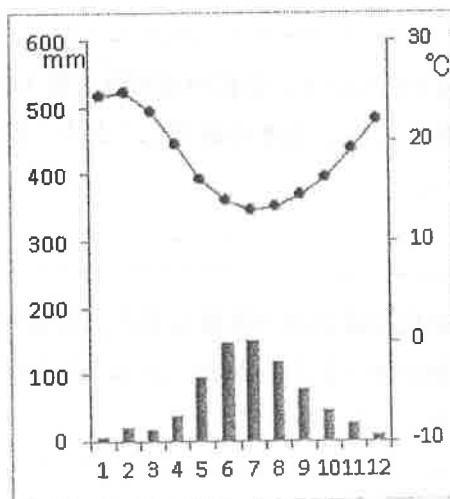
雨温図① [シンガポール]



雨温図② [ローマ]



雨温図③ [ニューヨーク]



雨温図④ [パース]

(8) 資料ivの雨温図①～④から、日本の鉄鉱石輸入先第1位の国のある都市について示したものを選び、その都市の気候的な特徴を述べたあ～くから該当するものを選びなさい。

- あ：西岸海洋性気候 夏に降水量が少なく、冬に降水量が多い。
- い：地中海性気候 夏に降水量が少なく、冬に降水量が多い。
- う：温暖湿潤気候 夏に降水量が少なく、冬に降水量が多い。
- え：熱帯雨林気候 夏に降水量が少なく、冬に降水量が多い。
- お：西岸海洋性気候 夏に降水量が多く、冬に降水量が少ない。
- か：地中海性気候 夏に降水量が多く、冬に降水量が少ない。
- き：温暖湿潤気候 夏に降水量が多く、冬に降水量が少ない。
- く：熱帯雨林気候 夏に降水量が多く、冬に降水量が少ない。

2 次の資料 i と ii は、日本の工業の特徴をまとめたものである。これを見て問いに答えなさい。

資料 i

- I. 日本の工業の発展は、① 軽工業から重工業へと進んだ。
- II. 京浜、中京、阪神、北九州などの地域を中心に、工業地帯が形成されていった。
- III. わが国は、原材料を輸入し製品を輸出する あ 貿易に依存している。加えて、海外に進出することで活躍の場を広げる い 企業としての活動も行っている。

資料 ii

- A. 20世紀初頭、② 日本初の本格的な製鉄所が建設された。近くの筑豊炭田と、中国から輸入した鉄鉱石や石炭を利用して鉄鋼生産を行い、近代日本における産業の発展を支えた。
- B. 海上交通の便がよく、さらに埋立地の用地が得やすかったことから、製鉄所や石油コンビナートなど様々な工業用地が整備された。近年では、リチウムイオン電池など新しい工業製品を製造している。
- C. 工業用水と電力に恵まれ、機械工業を中心に発展した。オートバイやパルプ、紙製品など、特徴ある工業製品を生産している。

(1) 下線部①について、官営の富岡製糸場(1872(明治5)年)や、大阪紡績会社(1882(明治15)年)の設立など、日本の近代化に大きく関わった人物は誰か。資料iiiを参考にその人物名を答えなさい。

資料 iii

日本の近代経済社会の基礎を築き、実業界のみならず社会・公共事業、外交の面においても指導的役割を果たした。2024(令和6)年度より発行される新しい一万円札の肖像画のモデルとして採用された。

(2) 資料 i の あ・い に入る適語を答えなさい。

(3) 資料 i について、日本の工業地帯は太平洋に面した港の近くに多いが、それはなぜか答えなさい。(30字以内)

(4) 資料 ii 下線部②について、製鉄所名を答えなさい。

(5) 資料 ii 下線部②の製鉄所が操業開始をした時期について、適切な年代を下のア～エから1つ選びなさい。

ア 1881年～1890年代

イ 1891年～1900年代

ウ 1901年～1910年代

エ 1911年～1920年代

(6) 資料 ii の B・C は、どこの工業地帯・地域を説明しているか答えなさい。

(7) 資料ivは、日本の主な工業地帯・地域の生産額の割合を示している。このうち「京葉工業地帯」に当てはまるものを、ア～カから1つ選びなさい。

資料iv


		繊維0.7					
ア	57.7兆	9.0	機械 69.4		6.5	4.3	9.9
イ	12.3兆	金属 19.7	14.4	化学 41.6	食料品 15.5	8.6	
ウ	33.1兆	金属 19.6	機械 37.5	化学 16.3	11.4	その他 13.6	
エ	30.8兆	金属 17.4	機械 37.9	化学 25.2	7.5	9.4	
オ	17.0兆	8.8	機械 50.5	10.1	食料品 5.0	その他 14.9	
カ	26.0兆	9.0	機械 48.8	化学 16.8	10.9	その他 13.5	

出典：工業統計

以下余白

③ 次の資料をみて、問いに答えなさい。

時代区	時代名	できごと
ア ↓ イ ↓ ウ ↓ エ ↓	飛鳥	① <u>十七条の憲法</u> が制定された
	奈良	産物や地名の由来、伝承など国ごとにまとめた『 <u>あ</u> 』が編纂された
	平安	唐風文化を基礎にしながら ② <u>日本独自の文化</u> が生まれる
	③ <u>鎌倉</u>	戦乱や天災があいつぎ、人々は仏教に新たな救いを求めるようになっていった
	④ <u>室町</u>	近江の馬借が中心になり、徳政令を要求して土一揆をおこす
	安土桃山	豊臣秀吉が、全国統一を実現し、刀狩りや ⑤ <u>太閤検地</u> を行う
	⑥ <u>江戸</u>	幕府と藩が全国の土地と人々を支配する体制がとられる



資料 i

(1) 日本の時代区分を「原始」「古代」「中世」「近世」「近代」「現代」とした時、「中世」はいつごろをさすか。表中ア～エから1つ選びなさい。

(2) 『あ』に入る適語を答えなさい。

(3) 表中下線部①について、その内容を示したものとして適切なものを次のア～エから1つ選びなさい。

ア 広く会議ヲ興シ万機公論ニ決スベシ

イ あつく三宝を敬え。三宝とは仏・法・僧なり

ウ けんかをした者は、いかなる理由による者でも処罰する

エ 学問と武道にひたすら精を出すようにしなさい

(4) 表中下線部②が栄えた時期の文学作品として『源氏物語』がある。この著者名を答えなさい。

(5) 表中下線部③の時代に世界でおこったできごとを説明した文として、最も適切なものを、次のア～エから1つ選びなさい。

ア スペインの援助を受けたコロンブスが、西インド諸島に到達した。

イ マルクスが、労働者を中心に平等な社会をめざす社会主義の考えを唱えた。

ウ ルターやカルバンが宗教改革をおこし、彼らはプロテスタントと呼ばれた。

エ モンゴル高原にチンギス=ハンが現れて、中央アジアを征服した。

(6) 表中下線部④の幕府の仕組みについて、将軍を補佐する役職名を答えなさい。

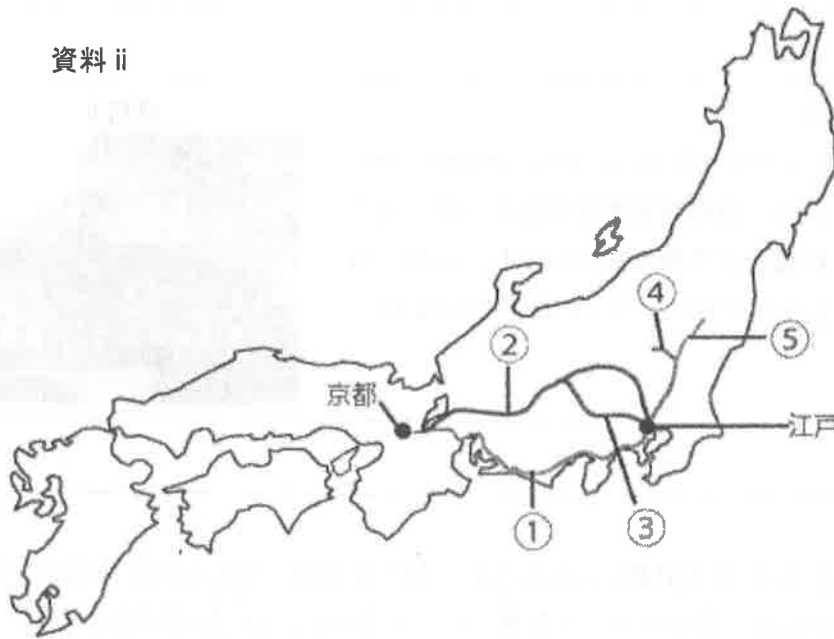
(7) 次の文は表中下線部⑤について説明したものである。文中①・②に入る語句の正しい組み合わせを次のア～エから1つ選びなさい。

豊臣秀吉はそれまで地域によって異なっていたものさしや、資料 i のような①を統一し、太閤検地を行った。この政策によって全国の土地が②という統一的な基準で表されるようになった。

- | | | | | | |
|---|------|-----|---|-----|-----|
| ア | ①とうみ | ②石高 | イ | ①ます | ②石高 |
| ウ | ①とうみ | ②地租 | エ | ①ます | ②地租 |

(8) 下線部⑥について、この時代は交通路（「五街道」）が整備された。その中で、長野県を通る街道を、下の資料 ii ①～⑤から1つ選びなさい。また、その街道名を答えなさい。

資料 ii



- 4 あるクラスの社会科の授業では班ごとにわかれ「教育」について調べた。教育の歴史や、日本の教育機関、教育制度について、それぞれ班ごとにまとめた。次のA～Cのカードは、班がまとめた一部である。次の問いに答えなさい。

A

●江戸時代の教育

京都や大坂などでは、① 学者が私塾を開き、武士だけでなく、町人や百姓の入門も許された。

また、諸藩では藩校が作られたり、町や村などでは多くの資料 i が開かれたりした。

資料 i



B

●明治時代の教育

教育の近代化をすすめるために、1872（明治5）年 が公布され、義務教育制度の確立が図られた。また、政府は各種の高等教育機関を創り、お雇い外国人を教師にするとともに、多くの留学生を欧米に派遣した。

資料 ii



C

●戦後の教育

1946（昭和21）年に日本国憲法が公布され、新たな教育に関わる内容が明記された。翌年には教育の機会均等、男女共学、義務教育などを定めた が作られた。

- (1) カードAの下線部①について、大坂の緒方洪庵という医者が開いた私塾を次のア～エから1つ選びなさい。

ア 適塾 イ 松下村塾 ウ 護国塾 エ 鳴滝塾

- (2) カードAの資料 i の教育施設の名称を漢字3文字で答えなさい。

- (3) カードBの に入る、日本最初の学校制度である法令の名称を答えなさい。

- (4) カードBの資料 ii は 1876（明治9）年に完成された小学校である。この建物がある場所の市町村名を次のア～エから1つ選びなさい。また、この建造物の名称を答えなさい。

ア 長野市 イ 上田市 ウ 飯田市 エ 松本市

- (5) カードCの に入る、法令の名称を漢字5文字で答えなさい。

5 下の表はあるクラスで1964（昭和39）年の東京オリンピック開催までの経緯をまとめたものである。次の問いに答えなさい。

1937（昭和12）年	夏季オリンピックの東京開催が決定
1938（昭和13）年	日本は、前年におこった あ により、開催を返上 国際オリンピック委員会（以下 IOC）は、代替地としてヘルシンキで開催が決定するも ① <u>第2次世界大戦</u> の影響で中止、1944（昭和19）年の ロンドン開催も中止
1948（昭和23）年	夏季オリンピックがロンドンで開催 日本選手団不参加
② <u>1951（昭和26）年</u>	日本は IOC に復帰
1952（昭和27）年	夏季オリンピックがヘルシンキで開催 日本選手団参加
③ <u>1956（昭和31）年</u>	夏季オリンピックの開催地が東京に決定

(1) 表中 **あ** に入る語句を次のア～エから1つ選びなさい。

ア 日露戦争 イ 日中戦争 ウ 日清戦争 エ 太平洋戦争

(2) 下の I～III の出来事は、表中下線部①と日本の関わりを示した出来事である。年代の古い順から並び替えたものを次のア～カから1つ選びなさい。

I 真珠湾攻撃	II 日独伊三国同盟	III アメリカ軍沖縄上陸
---------	------------	---------------

ア I→II→III イ I→III→II ウ II→I→III
エ II→III→I オ III→I→II カ III→II→I

(3) 右の資料 i は表中下線部②の年に調印された際の写真である。この時、日本が調印した条約名を答えなさい。また当時の日本の内閣総理大臣名を次のア～オから1つ選びなさい。

ア 佐藤栄作 イ 鳩山一郎 ウ 吉田 茂
エ 岸 信介 オ 池田勇人



(4) 右の資料 ii は表中下線部③の年に調印された際の写真である。この時、日本が調印した宣言名と、同年日本が加盟した国際機関名をフルネームで答えなさい。



6 次の表（資料 i）を見て、問いに答えなさい。

西子さんのクラスでは、公民的分野の学習のまとめとして、自分の興味のある分野を選び、調査しました。次の表は西子さんが興味を持った分野とテーマです。

資料 i

分野	テーマ
日本の政治のしくみ	① <u>国会と内閣の関係</u> はどのようなものだろうか。
裁判所のしくみと働き	法や② <u>裁判</u> は、どのような役割をはたしているのだろうか。
政治参加と選挙	選挙はどのように行われ、どのような課題があるのだろうか。
③ <u>価格の働き</u>	市場経済で、価格はどのような働きをしているのだろうか。
私たちの生活と金融機関	銀行や④ <u>日本銀行</u> は、どのような仕事をしているのだろうか。
生産と労働	⑤ <u>労働者の権利</u> にはどのようなものがあるのだろうか。
社会保障のしくみ	⑥ <u>日本の社会保障制度</u> はどのようにになっているのだろうか。
さまざまな国際問題	地球はどのような⑦ <u>環境問題</u> をかかえているのだろうか。

(1) 下線部①について、2021（令和3）年10月に衆議院が解散、総選挙の結果、第2次岸田内閣が発足した。以下のア～エを内閣が発足するまでの順に並びかえなさい。

- ア 内閣総理大臣の指名 イ 特別国会の召集
ウ 国務大臣の任命 エ 衆議院議員総選挙の投票

(2) 下線部②について、日本の裁判について述べた文として正しいものを、次のア～オからすべて選びなさい。

- ア 裁判所は最高裁判所と下級裁判所に分かれ、下級裁判所は、高等裁判所、地方裁判所、家庭裁判所、簡易裁判所の4種類がある。
イ 第一審の裁判所の判決に納得できない場合は、第二審の裁判所に上告し、さらに不服があれば控訴することができる。
ウ 裁判員制度とは、国民の中から選ばれた裁判員が、地方裁判所で行われるすべての刑事裁判に参加する制度である。
エ 民事裁判では、被告人が経済的な理由などにより弁護人を依頼できないときは、国が費用を負担して弁護人を付けることとなっている。
オ 法律が憲法に違反していないかどうかを行う権限は、すべての裁判所が持っている。

(3) 下線部③について、以下は独占禁止法をまとめた文である。□ A □に入る適語を答えなさい。

価格競争が弱くなると、私たち消費者は高い価格を支払わされることになりかねません。そのため、価格競争を促すために、独占禁止法が制定され、□ A □がその運用にあたっています。□ A □は独占禁止法に基づいて設置される行政機関で、「独占禁止法の番人」とも呼ばれています。

(4) 下線部④について、日本銀行の主な役割の組み合わせで正しいもの1つを選びなさい。

- ア 「兌換銀行」「政府の銀行」「銀行の銀行」
- イ 「兌換銀行」「政府の銀行」「銀行の銀行」
- ウ 「発券銀行」「政府の銀行」「銀行の銀行」
- エ 「発券銀行」「民間の銀行」「銀行の銀行」

(5) 下線部⑤について、以下の文の **I** ~ **III** に入る語の組み合わせとして正しいものを、下のア~カから1つ選びなさい。

働く人の権利は様々な法律によって守られています。**I** では、労働時間は週 **II** 時間以内、1日8時間以内とし、1週間で最低1日は休日としなければならないことが定められています。近年では、労働時間の短縮に週休二日制を導入する企業も多くなりましたが、まだまだ労働時間が長いといわれています。労働環境を改善し、育児休業や介護休業などを充実させることで、仕事と家庭生活や地域活動とを両立できる **III** を実現することも重要になってきます。

- | | | | |
|---|-------------|------------|---------------------|
| ア | I - 労働基準法 | II - 48 時間 | III - ワーク・ライフ・バランス |
| イ | I - 労働基準法 | II - 40 時間 | III - インフォームド・コンセント |
| ウ | I - 労働基準法 | II - 40 時間 | III - ワーク・ライフ・バランス |
| エ | I - 労働関係調整法 | II - 48 時間 | III - インフォームド・コンセント |
| オ | I - 労働関係調整法 | II - 48 時間 | III - ワーク・ライフ・バランス |
| カ | I - 労働関係調整法 | II - 40 時間 | III - インフォームド・コンセント |

(6) 下線部⑥について、次のXとYの正誤の組み合わせとして正しいものを、下のア~エから1つ選びなさい。

X 社会保障制度における社会保障とは、高齢者や障がいのある人、子どもなど、社会生活を営むうえで不利であったり立場が弱かったりする人々を支援するしくみのことです。

Y 介護保険制度とは、20歳以上の希望する人が加入し、介護が必要になったときに介護サービスをうけられる制度です。

- | | | | | | |
|---|-----|-----|---|-----|-----|
| ア | X 正 | Y 正 | イ | X 正 | Y 誤 |
| ウ | X 誤 | Y 正 | エ | X 誤 | Y 誤 |

(7) 下線部⑦について、地球環境問題の解決に向けた国際社会の取り組みについて、次の **あ** と **い** に入る語を答えなさい。

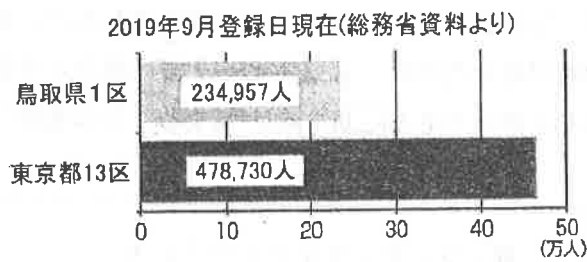
1997(平成9)年に **あ** 市で開かれた、気候変動枠組条約の締約国会議で、先進国に温室効果ガスの排出削減を義務付ける **あ** 議定書が採択されました。しかし、先進国と途上国の間の利害対立などがあり、**あ** 議定書の枠組みについて議論が続いていました。そこで、2015(平成27)年に **い** 協定が採択されました。**い** 協定では、途上国を含むすべての参加国が自主的に削減目標を定め、平均気温の上昇を抑える対策を進めています。

7 次の文を読んで、あとの問いに答えなさい。

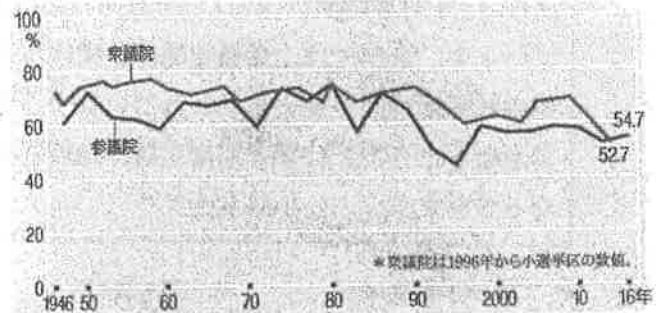
我が国の衆議院議員選挙は、a (小選挙区・大選挙区) 制と ① 比例代表制の組み合わせにより行われているが課題もある。グラフ I からわかるように選出する議員一人あたりの有権者数は、2019 (令和元) 年 9 月の時点では、東京都 13 区は鳥取県 1 区の約 2.04 倍であった。よって鳥取県 1 区の方が有権者一人あたりの一票の価値が b (低・高) く、格差が生じていた。

また、グラフ II からわかるように、1946 年以降、投票率は一度も 80 % を上まわることにはなかった。一人でも多くの有権者が投票できるように、様々な ② 改革が行われている。

グラフ I 各選挙区の有権者数



グラフ II 国政選挙の投票率の推移



(総務省資料より)

(1) 文中の a、b の () の中から、それぞれ当てはまる語句を 1 つ選びなさい。

(2) 下線部①について、定数 5 人の選挙区で、投票結果を右の資料の通りとした時、B 党の当選者数は何人か、その数を答えなさい。

資料 政党別得票数

政党名	得票数(票)
A 党	50 000
B 党	30 000
C 党	12 000

(3) 下線部②について、現在までに行われた、国政選挙の改革の説明として正しいものを、次のア～エから 1 つ選びなさい。

- ア 投票を義務化し、棄権者には罰則を科すことにした。
- イ 投票時間の延長や、期日前に投票できる制度を整備した。
- ウ メールやインターネットによる投票をできるようにした。
- エ 選挙運動期間中に候補者が有権者を戸別訪問できるようにした。

(4) 衆議院議員選挙 (総選挙) における比例代表制とは、どのような選挙制度か、「比例」・「得票数」・「議席」という三つの語句を用いて答えなさい。(30 字以内)

8 次の問いに答えなさい。

(1) 地方公共団体の首長について適切に述べているものを、次のア～エから1つ選びなさい。

- ア 被選挙権は、市町村・都道府県ともに満25歳以上である。
- イ 条例の制定・改廃を求める直接請求権の請求先である。
- ウ 法律の範囲内で条例を制定する。
- エ 地方公共団体の予算を決定する。

(2) 次の文は地方自治の特徴について書かれたものである。□に入る適語を答えなさい。

住民が地域を自ら治めることから、「地方自治は□の学校」と言われています。

以下余白